


Verteidigen

Verteidigung gegen Matt: A

A1



A2



A3




A4



A5



A6



A7




A8



A9



A10




A11



Verteidigen

Verteidigung gegen Matt: B

B1



Kann Schwarz Matt verhindern?

- ja, durch nein

B2



Kann Schwarz Matt verhindern?

- ja, durch nein

B3



Kann Schwarz Matt verhindern?

- ja, durch nein

B4



Kann Schwarz Matt verhindern?

- ja, durch nein


B5



Kann Weiß Matt verhindern?

- ja, durch nein

B6



Kann Weiß Matt verhindern?

- ja, durch nein

B7



Kann Weiß Matt verhindern?

- ja, durch nein


B8



Kann Weiß Matt verhindern?

- ja, durch nein


B9



Kann Weiß Matt verhindern?

- ja, durch nein

B10



Kann Weiß Matt verhindern?

- ja, durch nein

B11



Kann Schwarz Matt verhindern?

- ja, durch nein

B12



Kann Weiß Matt verhindern?

- ja, durch nein